

Ampliación de Cálculo

Año: 2012
Prueba. Tema 5.



Pablo Alberca Bjerregaard

INTEGRAL DE LÍNEA. POTENCIAL

Problema 1 Sea F el campo en $\mathbb{R}^2 \setminus \{(0, 0)\}$ dado por $F(x, y) = -\left(\frac{x}{x^2 + y^2}, \frac{y}{x^2 + y^2}\right)$. Calcule el valor de la integral de línea de F a lo largo de: a). La circunferencia de radio a y centro $(0, 0)$ con orientación positiva. b). La recta que une $(0, 1)$ con $(1, 0)$.

Problema 2 Calcule el valor de la integral de línea

$$\oint_C -y^3 dx + x^3 dy - z^3 dz, \quad (1)$$

donde C es la curva intersección de las superficies $x^2 + y^2 = 1$ y $x + y + z = 1$. Deberá determinar la orientación usada para el cálculo. A la vista del resultado, ¿es conservativo el campo $F(x, y, z) = (-y^3, x^3, -z^3)$? Confirme la respuesta con algún resultado teórico.

Problema 3 Se considera el campo vectorial F en $\mathbb{R}^3 \setminus \{\text{eje } Y\}$ dado por $F(x, y, z) = \left(-\frac{z}{x^2 + z^2}, y, \frac{x}{x^2 + z^2}\right)$. Demuestre que se trata de un campo irrotacional. Se consideran las curvas $\Gamma_1 \equiv x^2 + z^2 = 1, y = 1$ y $\Gamma_2 \equiv x^2 + y^2 = 1, z = 1$. ¿Es posible aventurar si es nula alguna de las integrales $\oint_{\Gamma_1} F \cdot d\gamma$ y $\oint_{\Gamma_2} F \cdot d\gamma$? Realice los cálculos correspondientes que confirmen lo afirmado en el apartado anterior.

Problema 4 Dada la lemniscata de Bernoulli de ecuación

$$(x^2 + y^2)^2 = a^2(x^2 - y^2), a > 0, \quad (2)$$

a) Parametrice dicha curva usando coordenadas polares.

b) Demuestre, usando dicha parametrización, que la longitud l de la lemniscata de Bernoulli viene dada

$$\text{por } l = 2a \int_0^{\pi/2} \sqrt{\sec t} dt.$$

Problema 5 Usando la parametrización $x = a \sin t, y = a \sin t \cos t, t \in [0, 2\pi]$ de la lemniscata de Gerono, demuestre que su longitud es

$$l = 2a\sqrt{2} \int_0^{\pi/2} \sqrt{2 + \cos(2t) + \cos(4t)} dt, \quad (3)$$

cuyo valor numérico aproximado es $6.097a$.

Problema 6 Demuestre que la longitud del arco de la espiral exponencial $\rho = e^\theta$ en $[0, 2\pi]$ es $\sqrt{2}(e^{2\pi} - 1)$. Véase la Figura ??.

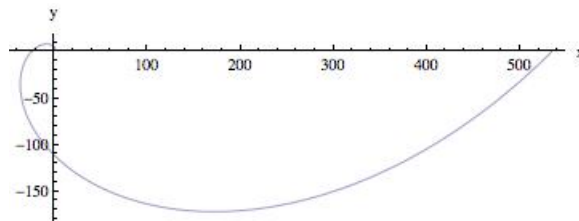


Figura 1: Parte de una espiral exponencial.

Problema 7 Calcule la longitud de un arco de la cicloide



$$x(t) = a(t - \sin t), \quad y(t) = a(1 - \cos t), \quad a > 0. \quad (4)$$

Problema 8 Se considera la curva Γ , conocida como espiral esférica, parametrizada por $\Gamma \equiv \gamma : [-\pi/2, \pi/2] \rightarrow \mathbb{R}^3$, $\gamma(t) = r(\cos(mt) \cos t, \sin(mt) \cos t, \sin t)$, $r > 0$.

a) Demuestre que la espiral esférica está contenida en la superficie de la esfera de centro $(0, 0, 0)$ y radio r .

b) Calcule su longitud.

c) Calcule $\int_{\Gamma} F \cdot d\gamma$, donde $F(x, y, z) = (y + z, x + z, x + y)$.

	Alberca Bjerregaard, Pablo (2012). Ampliación de Cálculo	
	OCW- Universidad de Málaga http://ocw.uma.es Bajo licencia Creative Commons Attribution-Non-Comercial-ShareAlike	